



4-09-2

公告試題僅供參考

注意：考試開始鈴(鐘)響前，不可以翻閱試題本

115 學年度科技校院四年制與專科學校二年制
統 一 入 學 測 驗 試 題 本

商業與管理群

專業科目(二)：會計學、經濟學

【注 意 事 項】

- 1.請核對考試科目與報考群(類)別是否相符。
- 2.請檢查答案卡(卷)、座位及准考證三者之號碼是否完全相同，如有不符，請監試人員查明處理。
- 3.本試題本共 50 題，每題 2 分，共 100 分，答對給分，答錯不倒扣。試題本最後一題後面有備註【以下空白】。
- 4.本試題本均為單一選擇題，每題都有 (A)、(B)、(C)、(D) 四個選項，請選一個最適當答案，在答案卡(卷)同一題號對應方格內，用 2B 鉛筆塗滿方格，但不超出格外。
- 5.有關數值計算的題目，以最接近的答案為準。
- 6.本試題本空白處或背面，可做草稿使用。
- 7.請在試題本首頁准考證號碼之方格內，填上自己的准考證號碼及姓名，考完後將「答案卡(卷)」及「試題本」一併繳回。

准考證號碼：□□□□□□□□ 姓名：_____

考試開始鈴(鐘)響時，請先填寫准考證號碼及姓名，再翻閱試題本作答。

- 關於財務報表之敘述，下列哪幾項正確？
 - ① 現金流量表：表達企業特定期間內營業、投資及籌資活動對現金流入、流出之影響
 - ② 權益變動表：表達企業特定期間內權益的變動情形及其結果
 - ③ 綜合損益表：根據收益與費損類帳戶編製而成，表達企業特定期間內的財務績效
 - ④ 資產負債表：根據資產、負債與權益類帳戶編製而成，表達企業特定期間內的財務狀況(A) 僅① (B) 僅①、② (C) 僅①、②、③ (D) 僅②、③、④
- 依據商業會計法，下列哪幾項應於年度決算程序辦理終了後，至少保存十年？
 - ① 發票
 - ② 傳票
 - ③ 日記簿
 - ④ 分類帳
 - ⑤ 資產負債表
 - ⑥ 綜合損益表(A) 僅①、②、③、④ (B) 僅①、②、⑤、⑥
(C) 僅②、③、④、⑤ (D) 僅③、④、⑤、⑥
- 關於會計基本概念之敘述，下列何者正確？
 - (A) 支付員工薪資為對內交易
 - (B) 因地震造成的存貨損失為對外交易
 - (C) 汽車經銷商購入汽車以供出售，應將汽車認列為存貨
 - (D) 禮品買賣業購入商品而支付運費，應將運費認列為營業費用
- 關於日記簿及分類帳的記錄方式，下列哪幾項正確？
 - ① 作分錄時應填寫日記簿的日頁欄
 - ② 過帳時將日記簿之頁次轉記到分類帳的日頁欄
 - ③ 過帳時將分類帳之頁次記入日記簿的日頁欄(A) 僅① (B) 僅② (C) 僅①、③ (D) 僅②、③
- 關於調整之敘述，下列哪幾項正確？
 - ① 會計基礎不論採權責發生基礎之記實轉虛法或記虛轉實法，期末預付項目的調整，借方一定為實帳戶
 - ② 應計基礎下，期末應付項目的調整，借方一定為虛帳戶
 - ③ 權責發生基礎之記虛轉實法下，期末漏作預收項目之調整分錄將導致淨利低估
 - ④ 應計基礎下，期末漏作應收項目之調整分錄將導致淨利低估(A) 僅①、③ (B) 僅②、④ (C) 僅①、②、④ (D) 僅①、③、④
- 甲公司 X1 年底及 X2 年底之應收帳款分別為借餘\$500,000 及借餘\$600,000。關於 X2 年備抵損失之敘述，下列哪幾項正確？(排除預期信用減損損失率為零之特殊情況)
 - ① 於 X2 年會計年度開始日，備抵損失一定是貸餘
 - ② 於 X2 年會計年度期間，備抵損失一定是貸餘
 - ③ 於 X2 年會計年度終了日，調整後之備抵損失一定是貸餘(A) 僅② (B) 僅③ (C) 僅①、② (D) 僅①、③

7. 甲企業 X6 年度調整後虛帳戶餘額如下所示：

銷貨收入	\$1,650,000	銷貨折讓	\$50,000
進貨	800,000	進貨退出	14,000
薪資支出	300,000	折舊	80,000
預期信用減損損失	4,000	利息費用	16,000

若 X6 年度存貨減少 \$30,000，所得稅率為 20%。關於甲企業 X6 年度之敘述，下列何者正確？

- (A) X6 年度營業成本率為 47.25%
(B) X6 年度營業利益率為 25.00%
(C) 若甲企業為獨資商號，虛帳戶結帳後本期損益為貸餘 \$444,000
(D) 若甲企業為公司組織，結轉本期損益至累積盈虧之分錄為：借記本期損益 \$384,000，貸記累積盈虧 \$384,000

8. 甲公司 X5 年底負債總額較資產總額的三分之一少 \$250,000，權益總額為負債總額的 2.5 倍。因應公司業務成長，公司規畫添購生產設備，並全數向銀行貸款以籌措資金，但權益總額不得低於負債總額的 1.25 倍，則公司添購生產設備金額的上限為多少？

- (A) \$500,000 (B) \$625,000 (C) \$1,500,000 (D) \$1,875,000

9. 甲公司為加值型營業人，適用營業稅率 5%，本期銷售額總計 \$9,000,000，進項總金額為 \$8,750,000。銷售額中包含經海關出口外銷 \$1,500,000；進項交易中除一般進貨及費用外，尚包含購買房地產 \$2,250,000 (其中 60% 為土地金額，40% 為房屋金額)，機器設備 \$350,000，供總經理拜訪客戶用的自用乘人小汽車 \$950,000，員工旅遊餐費 \$18,000，員工旅遊遊覽車車資 \$15,000。結算營業稅額前流動比率為 1.5，上期累積留抵稅額為 \$18,000。關於甲公司申報本期營業稅之敘述，下列哪幾項正確？

- ① 本期得扣抵進項稅額為 \$343,350
② 本期退稅限額為 \$160,000
③ 本期期末累積留抵稅額為 \$0
④ 本期營業稅結算分錄會造成流動比率上升
(A) 僅 ①、② (B) 僅 ①、④ (C) 僅 ②、③ (D) 僅 ③、④

10. 關於我國營業稅之敘述，下列哪幾項錯誤？

- ① 進口貨物的營業稅納稅義務人，是進口貨物的收貨人或持有人
② 適用加值型營業稅的營業人，若無銷售額，則無須申報營業稅
③ 購買供業務人員拜訪客戶用的自用乘人小汽車之進項稅額不得扣抵銷項稅額
④ 適用加值型營業稅的營業人，不論是否有溢付稅額，均僅能於單數月申報營業稅
⑤ 除營業稅法另有規定外，一般營業稅最高稅率 10%，最低稅率 5%，實際稅率由立法院核定
(A) 僅 ①、②、③ (B) 僅 ①、④、⑤ (C) 僅 ②、③、④ (D) 僅 ②、④、⑤

15. 甲公司 X1 年度存貨資料如下 (每件成本\$50)：
- 1月1日期初存貨200件
 - 4月2日進貨300件
 - 4月9日進貨退出20件
 - 5月2日銷貨280件
 - 6月1日銷貨退回30件
- 該公司年終盤點存貨為210件。關於定期盤存制與永續盤存制比較之敘述，下列哪幾項正確？
- ① X1 年度綜合損益表之銷貨成本一樣，皆為\$13,500
 - ② X1 年底資產負債表之存貨金額一樣，皆為\$10,500
 - ③ 只有永續盤存制會記錄存貨盤盈，金額為\$1,000
- (A) 僅① (B) 僅③ (C) 僅①、② (D) 僅②、③
16. 甲公司 X1 年初以每股\$30 購入乙公司 5,000 股普通股，另支付手續費\$100。X1 年中曾收到乙公司發放每股\$2 現金股利及 4%股票股利。X1 年底乙公司股票每股公允價值為\$40。甲公司於 X2 年初以每股\$50 將乙公司股票全部出售，另支付手續費及交易稅共計\$1,000。若甲公司將該投資分類為透過損益按公允價值衡量之金融資產，則該投資增加甲公司 X1 年及 X2 年稅前淨利之金額分別為何？
- (A) \$59,900，\$49,000 (B) \$59,900，\$51,000
(C) \$67,900，\$49,000 (D) \$67,900，\$51,000
17. 關於不動產、廠房及設備成本之敘述，下列何者正確？
- (A) 接受政府附帶補助條件而取得之土地，須待完成條件時始得以完成當時該土地之公允價值入帳
 - (B) 自行建造之廠房成本若高於可回收金額，則該廠房之帳面金額應以自建成本為主，並認列自建資產利益
 - (C) 拆除公司已有之舊屋改建新屋時，舊屋之拆除支出應列為新屋之成本，不得認列為舊屋之處分損益
 - (D) 向外購買之機器設備成本應以購買價格扣除最大現金折扣後的淨額入帳，未取得之現金折扣則視為營業外支出
18. 甲公司於 X1 年初購買機器一台，成本\$500,000，估計耐用年限 5 年，殘值\$5,000，採直線法提折舊。若於 X3 年初評估該機器剩餘耐用年限為 2 年，殘值為\$2,000，且改採年數合計法，則該機器於 X3 年底資產負債表上之帳面金額為多少？
- (A) \$69,000 (B) \$100,000 (C) \$102,000 (D) \$151,000
19. 甲公司有一筆10年期分次償還的銀行借款\$10,000,000，該筆銀行借款的2成將於X2年6月30日到期，其餘8成於X3年底之後陸續到期。該公司主動與銀行談妥並於X1年12月15日簽訂協議，將該筆借款中應於X2年6月30日償還的金額，展延至X3年6月30日才償還，則該筆\$10,000,000 銀行借款在 X1 年底資產負債表上列為流動負債的金額為多少？
- (A) \$0 (B) \$2,000,000 (C) \$8,000,000 (D) \$10,000,000

20. 甲公司發行 6 年期，每年 1 月 1 日支付現金利息 \$280,000 之公司債，X5 年底及 X6 年底該公司債之帳面金額分別為 \$5,803,274 及 \$5,755,405。關於該公司債之敘述，下列哪幾項正確？
- ① 該公司債利息費用呈現每年遞減
 - ② 該公司債之有效利率低於票面利率
 - ③ 該公司債 6 年流通期間認列之利息費用總額大於 \$1,680,000
 - ④ 該公司債每年認列利息費用金額與支付現金利息金額間之差額呈現每年遞減
- (A) 僅①、② (B) 僅③、④ (C) 僅①、②、④ (D) 僅②、③、④
21. 甲公司於 X2 年 12 月 1 日發現 X1 年的折舊費用多提 \$3,000。若不考慮所得稅，X2 年發現錯誤時應作的更正分錄為何？
- (A) 借：累計折舊—機器設備 \$3,000，貸：折舊費用 \$3,000
 - (B) 借：折舊費用 \$3,000，貸：累計折舊—機器設備 \$3,000
 - (C) 借：累計折舊—機器設備 \$3,000，貸：追溯適用及追溯重編之影響數 \$3,000
 - (D) 借：追溯適用及追溯重編之影響數 \$3,000，貸：累計折舊—機器設備 \$3,000
22. 甲公司 X2 年 6 月 6 日股東會決議，稅後淨利於彌補虧損後，應先依公司法提撥法定盈餘公積，再依公司章程提列特別盈餘公積 \$40,000，以及發放現金股利 \$90,000。若該公司 X1 年度稅後淨利為 \$350,000，且 X1 年初有累積虧損 \$50,000，則甲公司 X1 年度盈餘分配表中之可供分配盈餘為多少？
- (A) \$140,000 (B) \$225,000 (C) \$230,000 (D) \$280,000

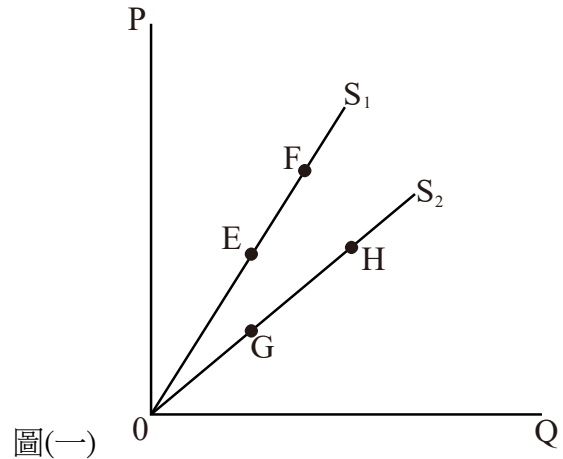
▲ 閱讀下文，回答第 23-24 題

甲公司會計基礎採權責發生基礎之記虛轉實法，依據 X5 年底資產負債表得知，資產總額為 \$1,950,000，流動比率為 3，速動比率為 0.8，非流動負債為流動負債 1.6 倍，權益總額為負債總額 1.5 倍。

23. 依據甲公司 X5 年底資產負債表所計算之速動資產及營運資金分別為多少？
- (A) \$240,000，\$600,000 (B) \$270,000，\$675,000
 - (C) \$390,000，\$975,000 (D) \$400,000，\$1,000,000
24. 若 X6 年發現，X5 年底漏作下列二項交易事項應作之調整分錄，則此錯誤對 X5 年底流動比率及速動比率之影響分別為何？
- ① X5 年 6 月 1 日出租設備 9 個月，預收 9 個月租金 \$27,000
 - ② X5 年 9 月 1 日預付一年期火災保險費 \$45,000
- (A) 流動比率低估，速動比率低估 (B) 流動比率低估，速動比率高估
 - (C) 流動比率高估，速動比率低估 (D) 流動比率高估，速動比率高估
25. 林生規劃暑假活動，與家人討論後找到四個可行的選項，但僅能擇一參加，而林生的個人偏好為 ③ > ① > ② > ④。林生在家人遊說下最後參加郵輪之旅，則此決策的機會成本為何？
- ① 與家人一起進行郵輪之旅
 - ② 擔任夏令營輔導志工，獲得 300 小時志工時數
 - ③ 飲料店打工，業主支付最低工資及員工福利
 - ④ 參加第二外語特訓班，結訓後可獲證明
- (A) ① (B) ② (C) ③ (D) ④

26. 小葉為荔枝供給者，其供給函數為 $Q_s = -10 + 20P$ 。荔枝市場只有 10 家供給者且供給函數皆相同，已知市場均衡價格為 5，則市場供給量為何？
(A) $-100 + 20P$ (B) $100 + 0.2P$ (C) 90 (D) 900

27. 如圖(一)所示，點 E 與 F 位於供給曲線 S_1 ；點 G 與 H 位於供給曲線 S_2 ， S_1 與 S_2 皆通過原點。下列敘述何者正確？
(A) E 點供給彈性與 G 點相同
(B) F 點供給彈性大於 E 點
(C) H 點供給彈性大於 G 點
(D) E 點供給彈性大於 F 點



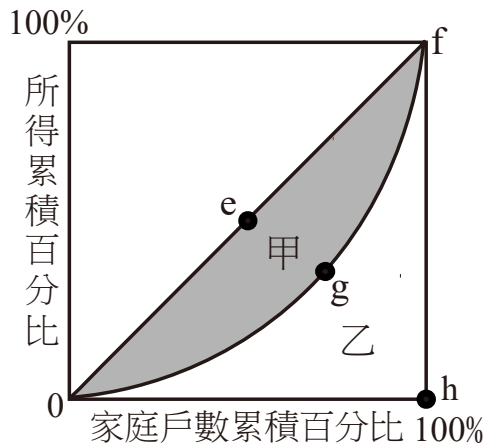
28. 小明消費蛋餅、豆沙包與三明治的效用如表(一)所示。已知①蛋餅、②豆沙包與③三明治每個售價分別為 40 元、50 元及 60 元，考慮財貨價格下，總效用最大之消費組合數量依序各為多少？

數量 \ 品項	總效用		
	①蛋餅	②豆沙包	③三明治
1	20	5	15
2	24	7	21
3	25	8	18
4	23	8	12

表(一)

- (A) 2、1、2 (B) 1、1、1 (C) 4、2、1 (D) 3、3、2
29. 甲公司為地方型產業園區的進駐廠商，而甲公司面臨生產上至少有一種關鍵生產要素投入量在三年內無法改變的限制。在持續生產的狀況下，該公司長期或短期的敘述，下列何者正確？
(A) 短期是指三年以內 (B) 短期是指超過三年
(C) 長期是指一年以內 (D) 長期是指二年以內
30. 辰氏企業為自行車製造商。下列哪一項短期成本項目與產量無關？
(A) 總固定成本 (B) 變動成本 (C) 平均固定成本 (D) 平均成本
31. 小張於市場販售當季農產品，惟提供相同農產品的販售者及買家眾多，難以凸顯產品差異，除了常常發現鄰近攤位業主轉換為新面孔。買家亦視每家販售的農產品可相互替代，由於小張與買家皆能充分掌握市場供需狀況及價格變化，小張不能隨意調整價格，僅能接受市場價格。關於市場結構及收益之敘述，下列何者正確？
(A) 寡占，邊際收益為負斜率 (B) 獨占性競爭，無供給線
(C) 完全競爭，總收益為倒 U 型 (D) 完全競爭，平均收益等於價格

32. 關於完全競爭廠商長期與短期的經營決策，下列何者正確？
(A) 當變動成本低於平均成本時短期應歇業
(B) 當價格低於平均變動成本時短期應歇業
(C) 當價格大於平均成本時，長期應退出市場、短期應歇業
(D) 當平均收益大於平均成本時，長期應退出市場、短期可持續營業
33. 當廠商擁有某一市場的產品價格絕對制訂權且在追求利潤極大化下，下列敘述何者正確？
① 廠商可根據短期供給曲線訂價
② 廠商會在需求彈性大於 1 的狀況下生產
③ 廠商面對水平需求曲線，虧損發生時應歇業
(A) 僅① (B) 僅② (C) 僅①、② (D) 僅②、③
34. 假設人工智慧(AI)伺服器的寡占市場中僅存在兩間廠商，下列敘述何者正確？
(A) 兩廠商可能會採跟跌不跟漲的訂價策略
(B) 邊際收益曲線會因寡占市場特性而呈現膨脹缺口
(C) 對消費者來說，兩廠商設計的 AI 伺服器必定具備同質性
(D) 價格僵固現象的原因為兩廠商面對同樣需求彈性的需求線
35. 依邊際生產力理論，假設要素市場為完全競爭市場，某廠商僱用每單位勞動的價格為新臺幣 1,500 元，關於勞動的邊際生產收益(MRP_L)之敘述，下列何者正確？
(A) 當 MRP_L > 1,500 元時，廠商會多僱用勞動
(B) 當 MRP_L > 1,500 元時，廠商會少僱用勞動
(C) 當 MRP_L < 1,500 元時，廠商可達利潤極大化
(D) 當 MRP_L > 1,500 元時，廠商可達利潤極大化
36. 如圖(二)，甲面積為線段 0ef 及曲線 0gf 間所夾的半月型面積，乙面積為 0fh 的三角形面積減去甲面積。關於吉尼係數的敘述，下列何者正確？

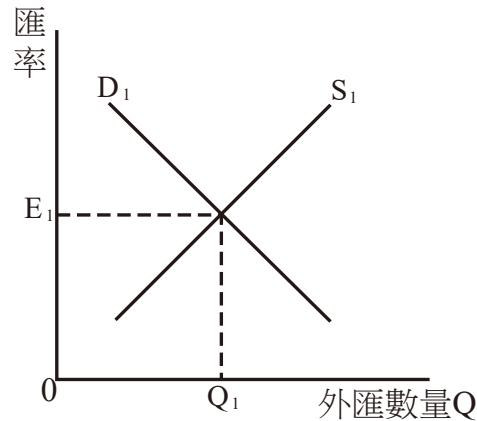


圖(二)

- (A) 若甲面積越小，則吉尼係數越大 (B) 若甲面積越小，則所得分配越平均
(C) 若吉尼係數 = 0，則乙面積 = 0 (D) 若吉尼係數 = 1，則甲面積 = 乙面積
37. 王某原本為月薪 38,000 元的餐廳服務員，如今調整職涯發展，辭去餐廳服務員工作後從事自媒體工作，月收入 40,000 元，下列敘述何者正確？
(A) 王某的準租為負 2,000 元 (B) 王某無法獲得任何經濟租
(C) 王某的移轉賺額為 38,000 元 (D) 王某的移轉賺額為 40,000 元

38. 根據投資儲蓄說，利率是儲蓄的報酬及投資的成本，利率越高則儲蓄量越多，但投資量則越少。下列敘述何者正確？
(A) 當儲蓄增加，投資減少時，均衡利率上升
(B) 當投資增加，儲蓄減少時，均衡利率下降
(C) 當投資增加，儲蓄保持不變時，均衡利率上升
(D) 當投資增加，儲蓄保持不變時，均衡利率下降
39. 政府為促使經濟成長，針對居留於國內居民皆發放消費券，下列何者為最有可能發生的影響？
(A) 基本薪資調漲
(B) 國民所得減少
(C) 政府消費性支出減少
(D) 國內支出毛額成長
40. 若當期年的實質 GDP 為 1,600 億元，基期年的實質 GDP 為 1,200 億元，且當期年相較於基期年的物價上漲 20%，則 GDP 平減指數及當期年的名目 GDP 分別為何？
(A) 80，1,440 億元
(B) 80，1,920 億元
(C) 120，1,440 億元
(D) 120，1,920 億元
41. 關於凱因斯(Keynes)投資乘數之敘述，下列何者正確？
① 若邊際消費傾向 = 0.8 時，則投資乘數為何？
② 當邊際消費傾向改變對投資乘數的影響為何？
(A) ① 1.25、② 邊際消費傾向越小，投資乘數不變
(B) ① 1.25、② 邊際消費傾向越小，投資乘數越大
(C) ① 5、② 邊際消費傾向越小，投資乘數越大
(D) ① 5、② 邊際消費傾向越大，投資乘數越大
42. 加入政府部門的凱因斯(Keynes)模型 $Y = C + I + G$ ， $C = 20 + 0.6(Y - T)$ ，定額稅 $T = 40$ ， Y 為所得、投資 $I = 120$ 、政府支出 $G = 250$ ，則該國政府減稅 10，均衡所得如何變動？
(A) 增加 10
(B) 減少 10
(C) 增加 15
(D) 減少 15
43. 在不同經濟狀況下，中央銀行可採行之貨幣政策的敘述，下列何者正確？
- | | 經濟狀況 | 公開市場操作 | 法定準備率 | 重貼現率 |
|-----|------|--------|-------|------|
| (A) | 景氣熱絡 | 買回債券 | 調高 | 調低 |
| (B) | 景氣熱絡 | 賣出債券 | 調高 | 調高 |
| (C) | 不景氣 | 買回債券 | 調低 | 調高 |
| (D) | 不景氣 | 賣出債券 | 調高 | 調高 |
44. 因受美國加徵關稅影響，政府針對出口到美國市場的廠商提供紓困貸款，是屬於下列何種經濟政策？
(A) 擴張性的財政政策
(B) 緊縮性的財政政策
(C) 擴張性的貨幣政策
(D) 緊縮性的貨幣政策

45. 圖(三)為臺灣外匯市場，新臺幣與美元的兌換採應付匯率，假設台積電最新製程的良率由 50% 提升到 75%，吸引美元資金大幅湧進我國外匯市場，下列敘述何者正確？



圖(三)

- (A) 需求曲線 D_1 右移，造成新臺幣升值，不利出口
(B) 需求曲線 D_1 左移，造成新臺幣貶值，有利進口
(C) 供給曲線 S_1 右移，造成新臺幣升值，不利出口
(D) 供給曲線 S_1 左移，造成新臺幣貶值，有利進口
46. 關於兩個國家在兩種商品貿易上的絕對利益與比較利益之敘述，下列何者正確？
① 各自能生產兩種商品時，一國在兩種商品上都可能擁有絕對利益
② 各自能生產兩種商品時，一國在兩種商品上可同時擁有比較利益
③ 即使一方在生產兩種商品上均有絕對利益，兩國仍能從貿易中獲益
④ 一國在兩種商品中擁有絕對利益，則該國在兩種商品上也會擁有比較利益
(A) ①、② (B) ①、③ (C) ②、④ (D) ③、④
47. 關於經濟成長的敘述，下列何者正確？
(A) 經濟成長率是以名目 GDP 的年增率衡量
(B) 經濟成長率是以實質 GDP 的年增率衡量
(C) 經濟成長率是以平均每人名目 GDP 的年增率衡量
(D) 經濟成長是因技術進步造成整條生產可能曲線向內移動
48. 下列敘述何者正確？
① 成本推動型通膨係因生產成本攀升，造成總需求減少，價格上升的通膨
② 痛苦指數是指失業率與物價上漲率造成社會大眾的痛苦程度
③ 停滯性通膨說明高失業率與高物價上漲率同時並存的現象
④ 需求拉動型通膨係因總需求增加，造成價格上揚的通膨
(A) 僅①、② (B) 僅③、④ (C) 僅①、②、④ (D) 僅②、③、④

▲閱讀下文，回答第 49-50 題

甲公司為臺灣一家知名的半導體製造代工廠，公司營運及生產模式為：在國內採購原物料，生產製造完成後，全數出口銷售給在美國的 3C 產品製造商。外銷以美元計價，每件產品 1,000 美元，X1 年共計代工生產三批產品。甲公司於交貨時即收取美元貨款，且於當日兌換為新臺幣，並依交貨時之匯率換算為新臺幣入帳。假設甲公司除原物料成本外，沒有其他費用支出，X1 年相關財務資料及銀行匯率資料如下：

生產批數	交貨時間	生產數量	交貨時銷售單價 (每件)		原物料成本 (新臺幣計價)	接單時預估交貨之匯率 (美元：新臺幣)	交貨時匯率 (美元：新臺幣)
			美元	新臺幣*			
第一批	3/30	1,000 件	\$1,000	\$30,000	\$2,000,000	1:30	1:30
第二批	6/30	2,000 件	1,000	32,000	4,000,000	1:32	1:32
第三批	9/30	3,000 件	1,000	30,000	6,000,000	1:35	1:30
合計		6,000 件			\$12,000,000		
說明：							
*甲公司會計處理依交貨時之匯率換算為新臺幣入帳。							

49. 甲公司為適用加值型營業稅廠商，外銷出口適用零稅率。假設甲公司除外銷代工訂單外無其他交易，帳上亦無上期累積留抵稅額，在不考慮所得稅下，甲公司 X1 年全年之獲利金額與營業稅應退稅額分別為多少？
- (A) \$172,000,000，\$8,600,000
 (B) \$172,000,000，\$600,000
 (C) \$187,000,000，\$9,350,000
 (D) \$187,000,000，\$600,000
50. 美國政府因急於改善對臺灣貿易逆差惡化的狀況下，在甲公司第三批貨物生產交貨完成前(X1年9月29日)施壓臺灣，迫使新臺幣升值，使得X1年9月30日的匯率由原來預估的1:35下跌為實際交貨時的1:30。假設其他條件不變，當年度甲公司以新臺幣計價的實際與預估的外銷收入差異為何？
- (A) 增加15,000,000元
 (B) 增加10,000,000元
 (C) 減少15,000,000元
 (D) 減少10,000,000元

【以下空白】

115 學年度科技校院四年制與專科學校二年制

統一入學測驗公告參考答案

考科代碼：4-09-2

類 別：商業與管理群

考 科：專業科目(二)會計學、經濟學

題號	答案	題號	答案	題號	答案	題號	答案	題號	答案	題號	答案
1	C	11	B	21	C	31	D	41	D	51	
2	D	12	A	22	C	32	B	42	C	52	
3	C	13	D	23	A	33	B	43	B	53	
4	B	14	A	24	B	34	A	44	A	54	
5	B	15	C	25	C	35	A	45	C	55	
6	D	16	D	26	D	36	B	46	B	56	
7	B	17	D	27	A	37	C	47	B	57	
8	C	18	C	28	A	38	C	48	D	58	
9	D	19	A	29	A	39	D	49	B	59	
10	D	20	A	30	A	40	D	50	C	60	