

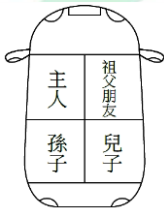
110 學年度四技二專統一入學測驗

家政群專業(一) 試題

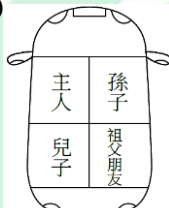
第一部份：家政概論(第 1 至 25 題，每題 2 分，共 50 分)

1. 陳董昨天因為急性腸胃炎上吐下瀉住院，請問下列探病禮節何者為不適當的行為？
 - (A)探訪時間應以 10 - 20 分鐘最為適宜
 - (B)探訪時因為病人身體虛弱，應準備十全豬腳湯幫他進補
 - (C)探病時如無必須，最好不要讓幼兒一同前往，以免感染病菌
 - (D)探病時要絕對遵守醫院的各項規定。
2. 我是主辦祖父生日宴會的主人，祖父的朋友帶了兒子與孫子來參加，我負責開車到機場接送，請問下列座位安排，何者最符合乘車禮儀？

(A)



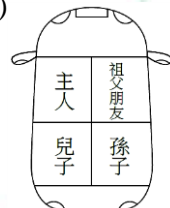
(B)



(C)



(D)



3. 人體皮膚的構造中，表皮層由外往內分為五層，下列何層含有黑色素細胞，是製造黑色素(Melanin)的地方？
 - (A)基底層
 - (B)顆粒層
 - (C)角質層
 - (D)透明層。
4. 下列化妝品的保存方式何者錯誤？
 - (A)開封後的化妝品，務必要栓緊瓶蓋，以免滋生細菌造成變質
 - (B)粉撲使用完畢後，應直接放置粉餅上一起收存
 - (C)取用保養品前，手部須清潔乾淨
 - (D)保養品開封啟用，必須在期限內使用完畢。
5. 人們需依照氣候的變化，選擇適當的衣服以維持人體固定體溫達到人體需求，這是下列何種服飾的功能？
 - (A)禦寒避暑
 - (B)強壯體魄
 - (C)美化人體
 - (D)代表職業與身分地位。

6. 阿美星期天去上書法社團課，不小心將墨汁打翻在裙襬上，下列何種去汙劑最適合將污漬去除？
(A)過氧化氫 (B)四氯化碳 (C)甘油、肥皂水 (D)丙酮、酒精。
7. 第二次世界大戰中，下列哪位設計師於 1940 年代推出「新風貌」(New Look)系列，寫上服裝史上的紀錄？
(A)香奈兒(Chanel) (B)安德列庫雷熱(Andre Courreges)
(C)迪奧(Christian Dior) (D)高緹耶(Jean Paul Gaultier)。
8. 高瘦體型最適合下列何種色彩之搭配？
(A)高明度與高彩度 (B)低明度與暗色系
(C)中明度與低彩度 (D)低明度與中彩度。
9. 下列對於首先設立各學制家政教育學校的敘述，何者正確？
(A)台南家專首先設立家政科 (B)臺灣師範大學首先設立家政教育系
(C)輔仁大學首先設立家政研究所 (D)文化大學首先設立家政博士班。
10. 阿明是已退休勞工，並選擇一次性領完退休金；並且把投資股票、房租收入、儲蓄型保險當作理財工具。下列對於阿明現況的敘述，何者正確？
(A)退休金屬於勤勞所得 (B)儲蓄型保險屬於財產保險的一種
(C)房租收入屬於財產所得 (D)股票股利收入屬於勤勞所得。
11. 阿倫近日想買最新型手機，逛遍各大購物網站，詢問店家各廠牌手機價格、功能及容量，但一星期內發現手機電池常不明原因發燙，便要求店家提供售後服務，要求維修或更換，根據以上敘述，阿倫沒有主張哪種消費者權利？
(A)求知 (B)要求健康環境 (C)選擇 (D)求償。
12. 近幾年由於環境汙染的關係，地球溫度逐年升高，紫外線強烈，並容易下酸雨。針對這些現象，下列敘述何者正確？
(A)溫室效應會促使海平面上升
(B)酸雨的 pH 值通常都大於 6.0
(C)強烈紫外線可促進植物生長
(D)臭氧層破洞更易促進維生素 D 吸收，有益骨骼健康。

13. 對於生活中常見配合綠色消費趨勢標章的敘述，下列何者正確？
- (A)環保標章中的綠色樹葉包裹地球，象徵著可回收、低成本、省資源的環保理念
 - (B)省水標章中的三條水帶，代表著愛水、親水、飲水，藉以鼓勵民眾愛護水資源
 - (C)綠建築標章是內政部為鼓勵興建省能源、省資源、低汙染之綠建築設計而成的
 - (D)碳足跡標籤指的是產品或活動，直接或間接消耗能源換算為一氧化碳的排放量。
14. 八十歲的王奶奶獨居，她喜歡對來訪的朋友談起童年往事，談話時嗓門特別大，且對於聽話者靠得特別近，招待朋友吃飯也多選擇口味重的食物，由於害怕頻尿，水分也喝得少，平日也多在家中，不喜出門運動。下列對於王奶奶狀況的敘述，何者正確？
- (A)由於老花眼的關係，所以對於聽話者靠得特別近
 - (B)不論是否有特殊疾病，高齡者應盡量少喝水
 - (C)味蕾數目增加，飲食口味變重
 - (D)短期記憶變差，長期記憶不受影響。
15. 下列關於阿茲海默症的敘述，何者正確？
- (A)又稱為帕金森氏症
 - (B)持續性的慢性病變
 - (C)持續復健即可痊癒
 - (D)造成長期記憶缺損。
16. 王先生由於行動不便且失能，需要專業護理人員的服務，希望全天候住在照顧服務機構。請問下列哪個機構最適合王先生入住？
- (A)長青公寓
 - (B)老人活動中心
 - (C)老人公寓
 - (D)護理之家。
17. 下列哪一種家政推廣方式，不屬於大眾推廣？
- (A)信函諮詢
 - (B)電視
 - (C)廣播
 - (D)報紙。
18. 明明到外地上班需租屋，對於租屋的選擇考慮，下列何者最適切？
- (A)瓦斯熱水器置於室內浴室門外，避免風吹日曬雨淋，有利於安全
 - (B)擔保金(押金)是房租3個月租金之總額
 - (C)水槽的底部設計約在站立時手肘平行的高度
 - (D)室內購置電器用品，例如冷氣，是高EER值(能源效率比值)。

19. 共同經營花店的王氏夫妻，家裡有 2 個幼兒、2 個高齡長輩及尚就在讀中學且須接送上下學的姊弟 3 人，另聘有 2 名店員和送貨員，先生因需外派出差半年擴展業務，不捨已妊娠的太太要工作且獨自勞心操持家務及店務，建議可找下列何種人員來幫忙分擔最適切？
- (A)家政推廣人員 (B)消費指導員
(C)家庭理財顧問 (D)家事經理人(管家)。
20. 依照史登(Stern)嬰幼兒語言發展期程，依據下列嬰幼兒表現的敘述，年齡從小到大，何者正確？
- 小全：家人去上班前說再見時，喜歡發出咿呀聲模仿，會跟著做出回應揮揮手，看到主要照顧者會出現激動的情緒大叫
- 小乖：看到阿公開門要出去時，也想出去玩，會對著媽媽說：「媽媽，鞋」
- 小奇：對好奇的事物會問：「這什麼？」
- 小寶：看到想吃的食物，會指著說：「ㄇㄚㄇㄚ」
- (A)小全→小乖→小奇→小寶 (B)小全→小寶→小奇→小乖
(C)小全→小寶→小乖→小奇 (D)小全→小乖→小寶→小奇。
21. 幼兒園小班的元元經常便秘且最近也患有流行性感冒，下列的照顧方式，何者最恰當？(甲)提供適當的運動；(乙)以全穀雜糧當主食；(丙)補充維生素及水分；(丁)加強補充精緻食物；(戊)保持心情開朗。
- (A)甲乙丙丁戊 (B)甲乙丙戊 (C)乙丙丁戊 (D)甲乙丙丁。
22. 2 歲幼兒的照顧者，在發展、保育與照顧的重點提供知能上，下列何者不是最迫切需要的？
- (A)協助提高幼兒對食物的接受性，注意進食的量及有助咀嚼的食物大小
(B)開始養成幼兒良好的刷牙、如廁、洗手等衛生習慣
(C)提供積木、玩沙、玩黏土等建構性遊戲
(D)多給予各種情緒刺激，因此階段為人類情緒發展的主要時期。
23. 陳家奶奶患有肝炎，爺爺有痛風和腎臟病，還有一個活潑的 15 歲孫子。陳家在為這三人備餐時，下列何者敘述最適宜？
- (A)三人都要限制蛋白質攝取
(B)三人都要補充蛋白質攝取
(C)陳爺爺和陳奶奶可飲酒，以促進血液循環
(D)陳奶奶應少量多餐，陳爺爺應控制鹽分攝取。

24. 圓圓想為忙碌重視養生的上班族和坐月子的產婦開設專門量身訂製的團膳店，小祥則想從事精緻糕點的研製。以上 2 人想從事行業的敘述，下列何者最適切？
- (A)圓圓：食品或營養調查員；小祥：分析檢驗人員
(B)圓圓：餐飲服務業；小祥：食品加工業
(C)圓圓：餐飲調理人員；小祥：食品衛生管理師
(D)圓圓：餐飲文化業；小祥：醫療保健業。
25. 小天身高 162 公分，體重 51 公斤；小山身高 152 公分，體重 50 公斤。下列敘述何者正確？
- (A)小天的體重超過健康體重目標值
(B)小天的 BMI 值屬於輕度肥胖
(C)小山的體重在健康體重目標值正常範圍
(D)小山的 BMI 值屬於體重過重。

第二部份：家庭教育(第 26 至 50 題，每題 2 分，共 50 分)

26. 某高中鑑於當地人口特質，積極規劃符應居民需求的家庭教育，下列敘述何者錯誤？
- (A)針對父親或母親有因故入獄、生重病的學生，舉辦依親教育的成長團體活動
(B)發現新住民家庭居多，極力推動多元文化教育
(C)為避免產生家庭暴力議題，結合社區資源實施婚姻教育
(D)因隔代教養情況普遍，特別邀請祖父母參與親職教育。
27. 關於「子職教育」的敘述，下列何者正確？(甲)目的是教導為人子女者善盡自己的本分與職責；(乙)前項所指的「子女」是指未成年的子女；(丙)子職教育的內涵宜隨著人生發展不同角色而改變；(丁)增能家庭經營的技巧不是子職教育的內涵之一。
- (A)甲乙 (B)丙丁 (C)乙丁 (D)甲丙。
28. 有關性別教育的敘述，下列何者正確？(甲)「男生認為自己應該剛強果斷；女生認為自己應該溫柔體貼」是性別認同的概念；(乙)家庭照顧假的日數不列入事假，全年可請 7 日；(丙)推動性別平等教育可以達成多元性別角色的發展；(丁)性別平等是一種普世的價值，不是保障特定人口的權益；(戊)在車站、圖書館、百貨公司等地方設置友善性別廁所，是推動性別平等教育的一環。
- (A)甲乙丙 (B)乙丙丁 (C)丙丁戊 (D)甲乙戊。

29. 關於婚姻的敘述，下列何者正確？(甲)為確保婚姻幸福有保障，先同居或試婚是值得提倡的作法；(乙)結婚或夫妻兩願離婚都需要二人以上的證人，且向戶政機關登記才能生效；(丙)臺灣地區因女性初婚年齡延後，導致婚姻斜坡的現象；(丁)結婚不只是兩個人的事，因此婚姻教育的內容應該涵蓋與姻親相處的知能。
- (A)甲乙 (B)丙丁 (C)甲丙 (D)乙丁。
30. 現代社會強調家庭教育的重要性，一向具有探索精神的恩恩，搭乘時空機回到過去，發現古人對家庭教育的重視，俯拾即是，只是時代不同，需要做些調整。下列何者不是古人的家庭教育概念？
- (A)修身、齊家、治國、平天下 (B)弟子入則孝，出則弟
(C)黎明即起，灑掃庭除 (D)聞道有先後，術業有專攻。
31. 關於 Duvall(1977)的家庭生命週期，分成八個階段，下列敘述何者正確？
- (A)以家中最小的子女的出生、成長與就學作為分類的基礎
(B)頂客族家庭在擴展期因共親職而需力求家庭與工作的平衡
(C)空巢期的夫妻應重新調整婚姻關係，具備終身學習的觀念
(D)家庭生命週期的概念很周延，涵蓋多元家庭型態的發展。
32. 小健和小昀結婚育有一對子女，有關此家庭的發展狀況，下列敘述何者正確？
- (甲)對小健而言，這個家庭稱為原生家庭；(乙)小健和小昀夫妻均全職工作且有收入，稱為雙工作家庭；(丙)小健全家搬到岳父母家長期同住，此家庭稱為母系家庭；(丁)小昀過世後，小健搬出岳父母家獨立養育子女，此時小健的家庭稱為單親家庭
- (A)甲丙 (B)乙丁 (C)甲乙 (D)丙丁。
33. 關於家庭成員的親屬關係，下列敘述何者正確？(甲)姑丈和自己是屬於血親關係；(乙)舅舅和自己是屬於血親關係；(丙)堂哥和自己是屬於姻親關係；(丁)同母異父的弟弟和自己是屬於血親關係。
- (A)甲丙 (B)丙丁 (C)乙丙 (D)乙丁。
34. 揚揚對音樂著迷，欣賞各種樂曲能讓他感受放鬆和愉悅。根據馬斯洛(Maslow)的理論，這是哪一層次的需求？
- (A)生理需求 (B)愛與隸屬需求 (C)美的需求 (D)自我實現需求。

35. 小傑失戀了，回到家不吃不睡、哭了三天，根據薩提爾(Satir)的溝通模式，下列回應依序最符合哪一種溝通模式？(甲)「都是我的錯，我沒有教你如何分辨好對象，不然你就不會受傷了。」；(乙)「早就告訴你他不值得交往，你不聽！該怪誰？」；(丙)「其實現在分手，對你的影響最小。」；(丁)「沒關係，我們去吃好料的，順便換支新手機。」；(戊)「你一定很難過，願意跟我聊一聊嗎？」
- (A)討好型、理智型、指責型、打岔型、一致型
(B)理智型、指責型、打岔型、討好型、一致型
(C)理智型、指責型、一致型、打岔型、討好型
(D)討好型、指責型、理智型、打岔型、一致型。
36. 蔡爸爸帶著全家一起研究藻礁公投議題，全家人閱讀各方報導，試著以整體的觀點來思考環境保護與經濟利益之間的因果脈絡。以上敘述最符合彼得聖吉(Senge)學習型組織理論的哪一種概念？
- (A)自我超越 (B)系統思考 (C)情感共同承諾 (D)改善心智模式。
37. 有關「家庭」的敘述，下列何者正確？
- (A)外婆與外孫之間的關係是旁系血親
(B)父母雙方或一方曾經結過婚，並帶來前次婚姻所生子女所組成的家庭，稱為混合家庭
(C)個人自幼生長的家庭，包含自己與父母、手足，此家庭對自己而言稱為生殖家庭
(D)養父母與養子女之間的關係，稱為自然血親。
38. 下列哪一項敘述可以判斷小翔的家庭為特殊兒童家庭？
- (A)小翔經專業評估具有語文學術性向資賦優異
(B)父母親發現小翔的藝術表現，其作品較同年齡的學童優異
(C)老師發現小翔上體育課時，常常氣喘吁吁，且體能較一般學童虛弱
(D)小翔長期呈現出自閉症行為特徵，老師與父母親認定他是自閉症兒童。
39. 有關隔代教養家庭的敘述，下列何者正確？(甲)根據統計資料顯示，隔代教養家庭情形相當普遍，其比例佔總家庭數的 10% 以上；(乙)傳承文化價值是隔代教養家庭的優勢之一；(丙)普遍而言，由於祖父母大多有照顧子女的經驗，因此在照顧孫子女時不會感到壓力；(丁)父母親入獄服刑是隔代教養家庭的成因之一。
- (A)甲乙 (B)乙丙 (C)丙丁 (D)乙丁。

40. 關於異國婚姻家庭，下列敘述何者錯誤？
- (A)異國婚姻家庭是指配偶來自東南亞、日韓、歐美及港澳等地區的新住民，不含大陸地區的新住民
 - (B)異國婚姻家庭的子女，具備雙重文化的優勢，其外籍配偶亦稱為新住民
 - (C)目前外籍配偶取得居留證者，可免工作許可證即可在臺灣合法工作
 - (D)異國婚姻家庭的組成，其原因可能包括：婚姻仲介、跨國工作、朋友介紹、親友介紹、出國留學...等多元方式，並不限單一管道。
41. 關於通勤家庭的敘述，下列何者錯誤？
- (A)係指父母親每天均由家庭出發，並且到外地上下班
 - (B)父母親其中一方多因為工作職務調動不易而形成此家庭型態
 - (C)海外工作的父母親一方，可以透過電子郵件維繫親子關係，落實家庭教育資訊化
 - (D)照顧子女的父母親其中一方負擔壓力沉重，可以尋求社會支持系統協助。
42. 所謂「旁觀者清，當局者迷」，若以周哈里窗(Johari window)的概念來看，此部分的自我認識是屬於哪個部分？
- (A)開放我 (B)盲目我 (C)隱私我 (D)未知我。
43. 高三的小膽因父親長期在國外工作，從小是阿嬤與媽媽一起照顧長大。小膽決定將來要當網紅，從事網拍工作，媽媽反對，於是請阿嬤說服媽媽。三人經過充分溝通後，阿嬤和媽媽一致決定支持她。小膽跟阿嬤介紹網路電商的運作，三人積極擬定一套訓練台風與口條計畫，期望一圓小膽的網紅夢。有關上述情境，下列敘述何者錯誤？
- (A)小膽的家庭是屬於候鳥家庭型態
 - (B)小膽跟阿嬤介紹網路電商的運作是文化反哺行為
 - (C)小膽請阿嬤說服媽媽是一種交錯式的溝通
 - (D)阿嬤和媽媽的教養屬於開明權威型態。

44. 尼特族(Not in Employment , Education or Training ,簡稱 NEET)泛指不工作、不升學或不接受職業培訓的人，不僅成為家庭的問題，也是社會的隱憂，為預防和解決此現象，最優先落實哪些家庭教育內涵？
- (A)親職教育、子職教育、倫理教育
(B)子職教育、性別教育、多元文化教育
(C)親職教育、性別教育、婚姻教育
(D)多元文化教育、家庭資源與管理教育、倫理教育。
45. 志雄與母親同住，再婚後收養妻子 4 歲的兒子威威。收養前志雄曾詢問母親的意見，志雄母親說：「你自己做決定就好，反正我老了，我的意見又不重要。」根據此情境，下列敘述何者錯誤？
- (A)志雄母親和威威是擬制血親關係
(B)志雄與母親之間存在著「雙重束縛式」的溝通障礙
(C)這四人組成的家庭是聯合家庭
(D)在法律上，收養後威威的權利義務視同志雄的親生子女。
46. 小麗模擬考排名下滑 50 名，回到家中忍不住嘆氣：「唉！我被國文害死了！」爸爸放下手邊的工作，給小麗大大的擁抱，看著她說：「要不要聊一聊呢？」有關上述情境，下列敘述何者正確？(甲)爸爸與小麗的溝通是曖昧溝通方式；(乙)小麗回答中伴隨的嘆氣是副語言的溝通方式；(丙)爸爸放下手邊的工作、注視小麗並回應她，這是運用積極傾聽的溝通技巧；(丁)擁抱時，爸爸和小麗之間的距離是個人距離。
- (A)甲乙 (B)乙丙 (C)丙丁 (D)甲丁。
47. 有關我國家庭教育專業發展的敘述，下列何者錯誤？
- (A)近年來我國推動家庭教育主要參考美國家庭關係協會(NCFR)的作法
(B)我國家庭教育掌握「分眾」原則，推動事前預防的教育活動
(C)要取得家庭教育專業人員資格必須修畢 18 學分相關課程，再進行後續認證作業
(D)家庭教育的範圍於民國 99 年將「兩性教育」修正為「性別教育」，主要是因應全球「性別主流化」的趨勢。

48. 家庭教育的內涵中，最能達成「維護人權、消除歧視、伸張社會正義與提倡機會均等」的是哪兩種教育？
- (A)親職教育與子職教育 (B)婚姻教育與家庭資源教育
(C)親職教育與家庭倫理教育 (D)性別教育與多元文化教育。
49. 有關「家人關係」的敘述，下列何者正確？(甲)手足關係是家人關係中最先建立的；(乙)夫妻關係是家庭關係中維持最久的關係；(丙)翁婿和連襟是屬於親屬關係中的姻親關係；(丁)同一家庭裡有越多對夫妻，其家人關係與溝通可能越複雜。
- (A)甲乙 (B)乙丙 (C)丙丁 (D)甲丁。
50. 小翔的家庭是由父母、小翔夫妻、小翔的一對子女，以及已婚育有子女的哥哥全家人同住，請問此一家庭型態屬於何者？
- (A)重組家庭 (B)雙生涯家庭 (C)擴展家庭 (D)雙系家庭。

家政群專業(一) - 【解答】

- 1.(B) 2.(A) 3.(A) 4.(B) 5.(A) 6.(C) 7.(C) 8.(A) 9.(B) 10.(C)
11.(B) 12.(A) 13.(C) 14.(D) 15.(B) 16.(D) 17.(A) 18.(D) 19.(D) 20.(C)
21.(B) 22.(D) 23.(D) 24.(B) 25.(C) 26.(A) 27.(D) 28.(C) 29.(D) 30.(D)
31.(C) 32.(B) 33.(D) 34.(C) 35.(D) 36.(B) 37.(B) 38.(A) 39.(D) 40.(A)
41.(A) 42.(B) 43.(C) 44.(A) 45.(C) 46.(B) 47.(C) 48.(D) 49.(C) 50.(C)